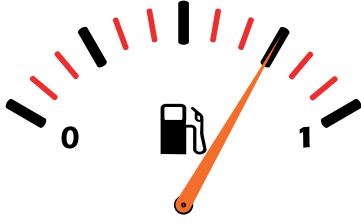


1. $(18,19 - 12,06) + 3,8$ işleminin sonucu aşağıdakilerden hangisidir?

- A) 6,53 B) 9,83
C) 9,93 D) 10,93

2.



Yukarıdaki şekilde bir aracın benzin deposunda bulunan benzin miktarı gösterilmektedir.

Buna göre bu deponun % kaç doludur?

- A) %25 B) %50 C) %75 D) %100

3.

- I. $0,8 = \%80$
II. $0,09 = \%90$
III. $0,25 = \%25$
IV. $0,06 = \%60$

Yukarıdaki eşitliklerden kaç tanesi doğrudur?

- A) 1 B) 2 C) 3 D) 4

4. Bir koşucu 6 km.'lik yolun %30'unu koşuyor. Bu koşucunun geriye koşacağı kaç metre yolu kalmıştır? ($1 \text{ km} = 1000 \text{ m}$)

- A) 1800 B) 2400 C) 3600 D) 4200

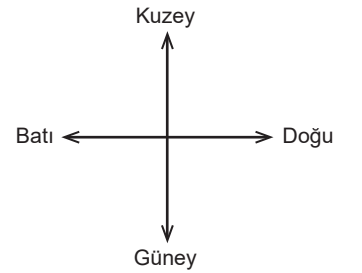
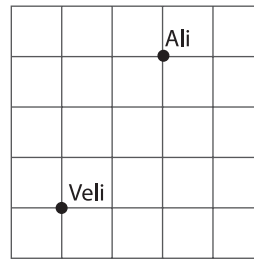
5. "KL doğru parçası ile MN doğru parçası paraleldir."

Yukarıdaki ifadenin sembol ile gösterimi aşağıdakilerden hangisidir?

- A) $KL \parallel MN$
B) $[KL] \parallel [MN]$
C) $KL \perp MN$
D) $[KL] \perp [MN]$

Yalova Ölçme Değerlendirme Merkezi

6.

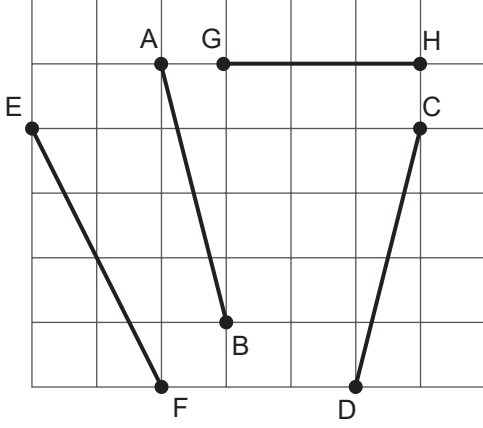


Birim kareli kağıtta Ali ile Veli'nin konumları gösterilmektedir.

Buna göre Ali'nin Veli'ye göre konumu aşağıdakilerden hangisidir?

- A) 2 birim batısının 3 birim güneyinde
B) 2 birim doğusunun 3 birim kuzeyinde
C) 3 birim doğusunun 2 birim güneyinde
D) 3 birim batısının 2 birim kuzeyinde

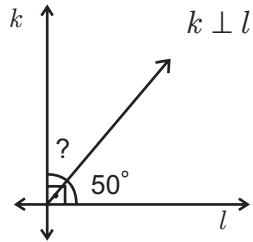
7.



Yukarıda kareli düzlemde verilen doğru parçalarından hangi ikisinin uzunluğu birbirine eşittir?

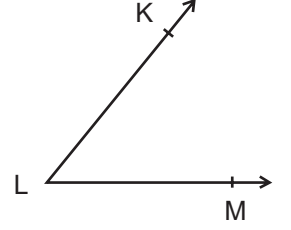
- A) [AB] ile [CD]
- B) [AB] ile [EF]
- C) [AB] ile [HG]
- D) [EF] ile [HG]

8. Şekilde verilenlere göre “?” yerine gelmesi gereken açı kaç derecedir?



- A) 40
- B) 50
- C) 80
- D) 100

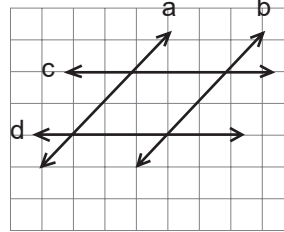
9. Yandaki açığı aşağıda verilen ifadelerden hangisi ile adlandıramayız?



- A) \widehat{KLM}
- B) \widehat{MLK}
- C) \widehat{L}
- D) \widehat{MKL}

Yalova Ölçme Değerlendirme Merkezi

10.



Kareli kağıtta yer alan doğruya göre aşağıdaki-lerden hangisi doğrudur?

- A) $d \parallel a$
- B) $a \parallel b$
- C) $b \parallel c$
- D) $a \parallel c$

1-C, 2-C, 3-B, 4-D, 5-B, 6-B, 7-A, 8-A, 9-D, 10-B

CEVAP ANAHTARI: