

5.

Bilim insanları ile ilgili araştırma yapmak amacıyla kütüphaneye gittim.



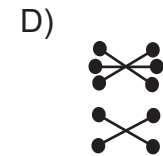
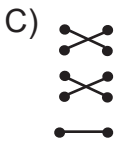
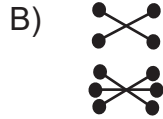
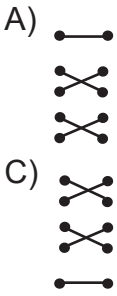
Kütüphaneye giden Poyraz ile ilgili aşağıdakilerden hangisi söylenebilir?

- A) Araştırma ile ilgili bilgileri sınırlandırdığı
- B) Araştırması ile ilgili bilgi topladığı
- C) Bilim insanlarını eleştirdiği
- D) Araştırma konusunu belirlediği

6.

| <u>İller</u> | | <u>Gelişen Meslekler</u> |
|--------------|---|--------------------------|
| Antalya | ● | ● Ziraat Mühendisliği |
| Adana | ● | ● Turist rehberliği |
| Zonguldak | ● | ● Balıkçılık |
| Rize | ● | ● Madencilik |
| İstanbul | ● | ● İnşaat Mühendisliği |

İller ve gelişen meslekler eşleştğinde aşağıdaki şekillerden hangisi ortaya çıkar?



Yalova Ölçme Değerlendirme Merkezi

7. Bursa'nın İnegöl ilçesinin çevresindeki dağlar ormanlarla kaplıdır. Bu nedenle İnegöl'de ağaç ve kereste işletmeciliği ön plana çıkmıştır. Bu durum insanlara iş imkanı sağlamıştır. Böylece ilçenin nüfusu aldığı göçlerle artmıştır. Gelişen ve büyüyen ilçede insanların sosyal imkanlarında artmıştır. Eğitim, sağlık ulaşım hizmetleri daha da gelişmiştir.

Bu bilgilere göre ulaşılabilecek en kapsamlı yargı aşağıdakilerden hangisidir?

- A) Ekonomik faaliyetler insanların sosyal faaliyetlerini etkiler.
- B) Dağlık alanlar ekonomik faaliyetler için uygun değildir.
- C) Gelişmiş il ya da ilçelerde eğitim ve sağlık hizmetleri yetersizdir.
- D) Ormanlık alanlar ekonomik faaliyetler açısından yetersizdir.

8. Meslek seçimleri yaşanan bölgedeki ekonomik faaliyetlerin çeşitliliğine bağlı olarak farklılık gösterir.

Buna göre sanayi tesislerinin yoğun olarak bulunduğu Marmara Bölgesinde;

- I. İnşaat Mühendisliği
- II. Fabrika İşçiliği
- III. Makine Mühendisliği
- IV. Bankacılık

gibi meslek dallarının hangisinin ya da hangilerinin gelişim gösterdiği söylenebilir?

- A) I ve II
- B) I, II ve III
- C) III, IV
- D) I, III , IV

9. Üretilen ürünler hammadde halinden ürün haline gelinceye kadar çeşitli aşamalardan geçer.

Üretim: Hammaddenin işlenerek tüketicinin kullanabileceği hale gelmesidir.

Dağıtım: Üretilen mal ve hizmetlerin tüketicie ulaştırılmasıdır.

Tüketim: Üretilen ürünlerin tüketiciler tarafından satın alınıp kullanılmasıdır.

Bu bilgilere göre aşağıdakilerin hangisinde verilen faaliyet tüketim değildir?

- A) Emir'in satın aldığı ayakkabıyı giymesi
- B) Nihal Hanım'ın yaptığı meyveli pastayı misafirlerinin yemesi
- C) Ahmet Bey'in yeni bir otomobil alması
- D) Çiftçi Hasan Bey'in hayvanlarından süt sağması

10.

| BÖLGE | EKONOMİK FAALİYET | NEDENİ |
|----------------------|----------------------|-------------------------------|
| Doğu Anadolu Bölgesi | Büyükbaş hayvancılık | Gür çayır ve otlakları |
| Ege Bölgesi | 1 | Verimli ovaları |
| 2 | Sanayi | Ulaşım ve pazarlama imkanları |
| Akdeniz Bölgesi | Turizm | 3 |

Verilen tabloda numaralarla gösterilen boşluklara aşağıdaki seçeneklerden hangisi gelmelidir?

- A) Marmara - Ormancılık - Göç alması
- B) Tarım - Marmara Bölgesi - Denize kıyısı ve iklimi
- C) Ormancılık - Ege Bölgesi - Göç alması
- D) Turizm - Akdeniz Bölgesi - Yer şekillerinin elverişli olması