

1. Standart açı ölçme birimi nedir?

- A) Derece
- B) İletki
- C) Gönye
- D) Pergel

2. • Çivi

• Bir ucu açılmış kalem

• Güneş ışını



Yukarıdaki modeller aşağıdaki geometrik kavramlardan hangisine örnek oluşturur?

- A) Nokta
- B) Işın
- C) Doğru
- D) Doğru Parçası

3. Saat dokuzu gösterdiğinde akrep ile yelkovan arasındaki açı kaç derecedir?

- A) 90
- B) 180
- C) 270
- D) 360



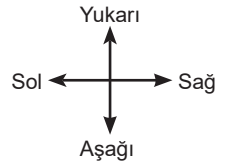
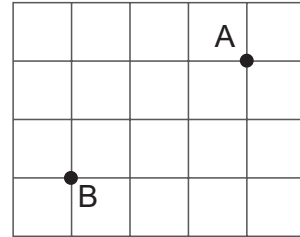
4. "KL doğrusu ile MN doğrusu diktir."

Yukarıdaki ifadenin sembol ile gösterimi aşağıdakilerden hangisidir?

- A) $KL \parallel MN$
- B) $[KL \parallel [MN$
- C) $KL \perp MN$
- D) $[KL] \perp [MN]$

Yalova Ölçme Değerlendirme Merkezi

5.



Birim kareli kağıtta A ve B noktalarının konumları gösterilmektedir.

Buna göre B noktasının A noktasına göre konumu aşağıdakilerden hangisidir?

- A) 2 birim solunun 3 birim aşağısında
- B) 2 birim sağının 3 birim yukarısında
- C) 3 birim sağının 2 birim yukarısında
- D) 3 birim solunun 2 birim aşağısında

6. Aşağıdaki harflerin hangisinde hem paralel hem de dik kesişen doğrulara örnek vardır?

A) **A**

B) **K**

C) **F**

D) **N**

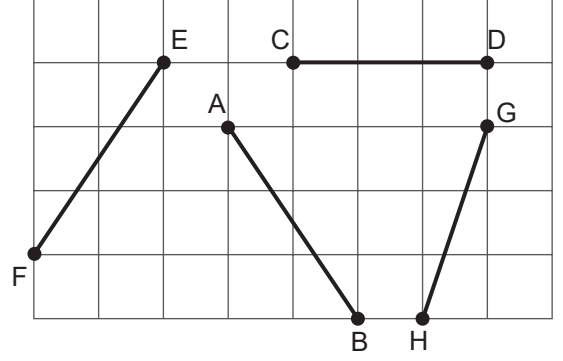
7.



Yandaki çokgende aşağıdakilerden hangisinin sayısı diğerlerinden farklıdır?

- A) Köşegen
B) Kenar
C) Köşe
D) İç Açı

8.

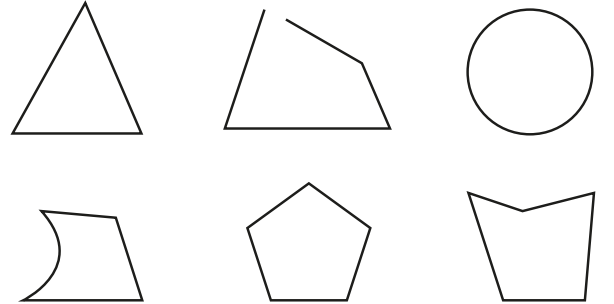


Yukarıda kareli düzlemde verilen doğru parçalarından hangi ikisinin uzunluğu birbirine eşittir?

- A) [AB] ile [HG]
B) [AB] ile [EF]
C) [AB] ile [CD]
D) [EF] ile [HG]

Yalova Ölçme Değerlendirme Merkezi

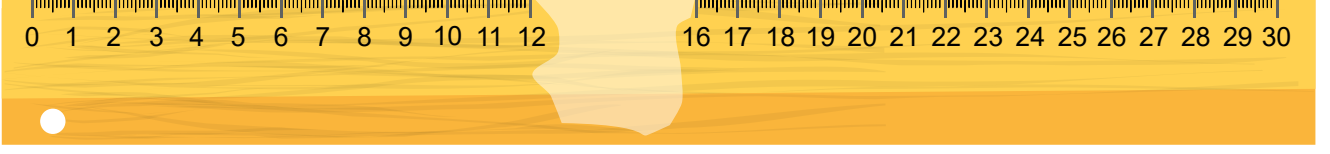
9.



Yukarıda verilen şekillerden kaç tanesi çokgendir?

- A) 2
B) 3
C) 4
D) 5

10. Ceren, aşağıdaki belli aralığı silinmiş 30 cm'lik cetveli kullanarak uzunlukları farklı olan kalemleri ölçmek istiyor.



Bu durumda Ceren aşağıda uzunlukları verilen kalemlerden hangisini tek bir ölçüm ile santimetre cinsinden ölçemez?

A) 12,7

B) 13,2

C) 13,8

D) 15,2

1-A, 2-B, 3-A, 4-C, 5-D, 6-C, 7-A, 8-B, 9-B, 10-D

CEVAP ANAHTARI: