

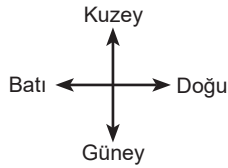
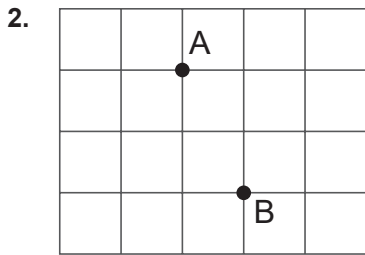
1. Ölçüsü olan açılara doğru açı denir.

Ölçüsü 85° olan bir açıya örnektir.

Ölçüsü 90° ile 180° arasında olan açılara açı denir.

Verilen ifadelerdeki boşluklara aşağıdakilerden hangisi getirilemez?

- A) 90°
- B) 180°
- C) Dar Açı
- D) Geniş Açı



Birim kareli kağıtta A ve B noktalarının konumları gösterilmektedir.

Buna göre A noktasının B noktasına göre konumu aşağıdakilerden hangisidir?

- A) 1 birim güneyinin 2 birim batısında
- B) 2 birim güneyinin 1 birim doğusunda
- C) 2 birim kuzeyinin 1 birim batısında
- D) 1 birim kuzeyinin 2 birim doğusunda

3. Aşağıdakilerden geometrik kavramlardan hangisi iki ucundan sınırlıdır?

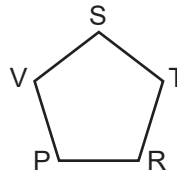
- A) Doğru
- B) Doğru Parçası
- C) Işın
- D) Nokta

4. Saat altıyı gösterdiğinde akrep ile yelkovan arasındaki açı kaç derecedir?

- A) 360
- B) 180
- C) 90
- D) 45



5.



Yandaki beşgenin adlandırılışı aşağıdakilerden hangisidir?

- A) STRPV
- B) SPRTV
- C) VRTPS
- D) TRSPV

6. Aşağıdaki harflerin hangisinde hem paralel hem de dik kesişen doğrulara örnek vardır?

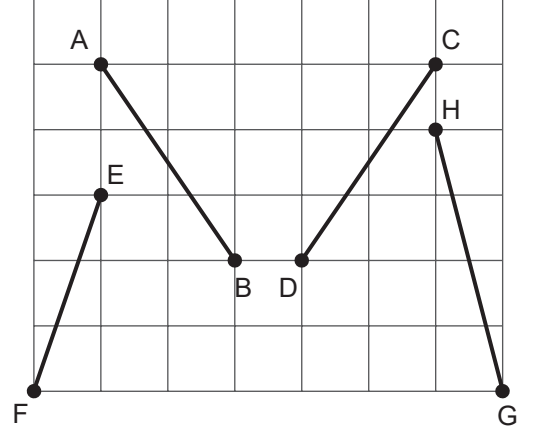
A) **A**B) **E**C) **M**D) **Z**

7. "KL doğru parçası ile MN doğru parçası paraleldir."

Yukarıdaki ifadenin sembol ile gösterimi aşağıdakilerden hangisidir?

A) $KL \parallel MN$ B) $[KL] \parallel [MN]$ C) $KL \perp MN$ D) $[KL] \parallel [MN]$

8.

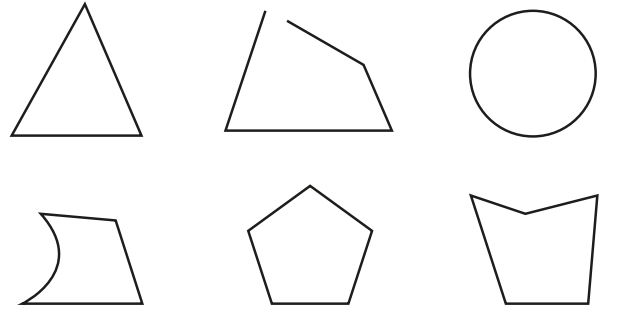


Yukarıda kareli düzlemde verilen doğru parçalarından hangi ikisinin uzunluğu birbirine eşittir?

A) $[AB]$ ile $[HG]$ B) $[AB]$ ile $[EF]$ C) $[AB]$ ile $[CD]$ D) $[EF]$ ile $[HG]$

Yalova Ölçme Değerlendirme Merkezi

9.



Yukarıda verilen şekillerden kaç tanesi çokgendir?


A) 2

B) 3

C) 4

D) 5

10. Ceren, aşağıdaki belli aralığı silinmiş 30 cm'lik cetveli kullanarak uzunlukları farklı olan kalemleri ölçmek istiyor.



Bu durumda Ceren aşağıda uzunlukları verilen kalemlerden hangisini tek bir ölçüm ile santimetre cinsinden ölçemez?

A) 12,5

B) 12,7

C) 13

D) 13,4

1-A, 2-C, 3-B, 4-B, 5-A, 6-B, 7-D, 8-C, 9-B, 10-D

CEVAP ANAHTARI: